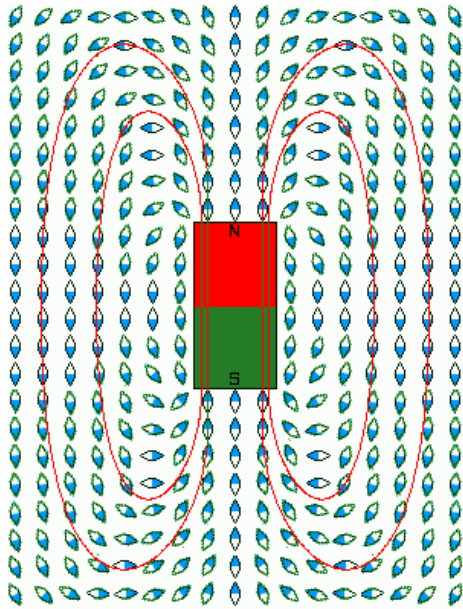
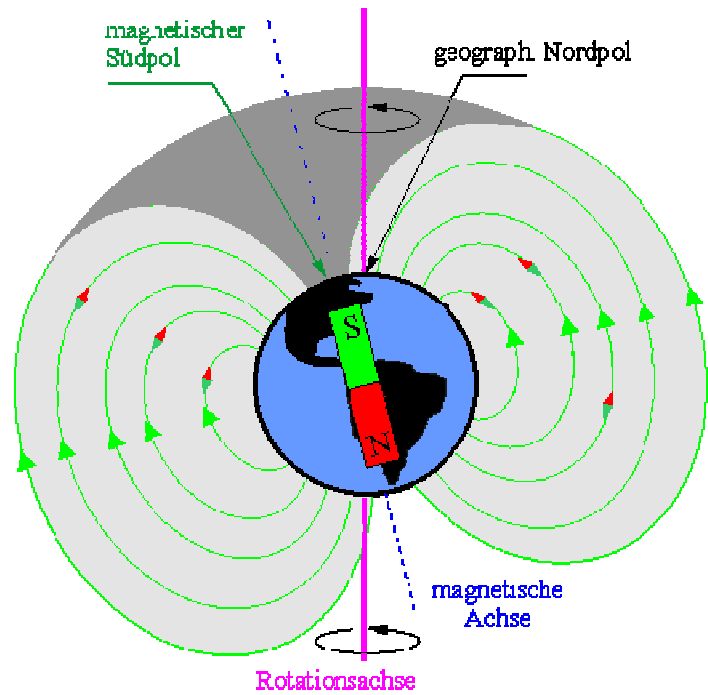


Physik * Jahrgangsstufe 7 * Magnetische Feldlinien

Magnetische Feldlinien zeigen, wie sich kleine Probemagnete im Einflussbereich eines Magneten orientieren.

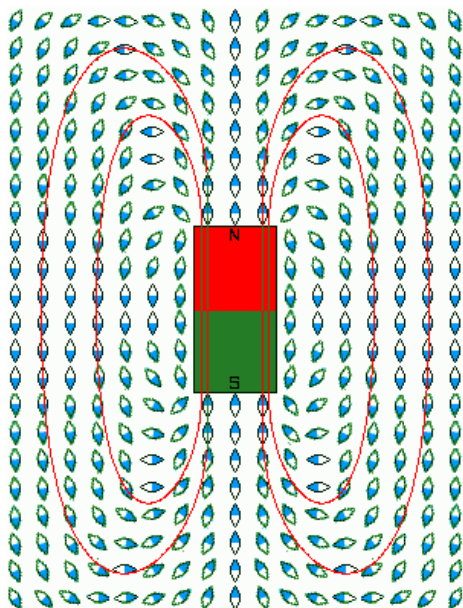


Die Erde hat ein Magnetfeld, das dem eines großen Stabmagneten gleicht.



Physik * Jahrgangsstufe 7 * Magnetische Feldlinien

Magnetische Feldlinien zeigen, wie sich kleine Probemagnete im Einflussbereich eines Magneten orientieren.



Die Erde hat ein Magnetfeld, das dem eines großen Stabmagneten gleicht.

