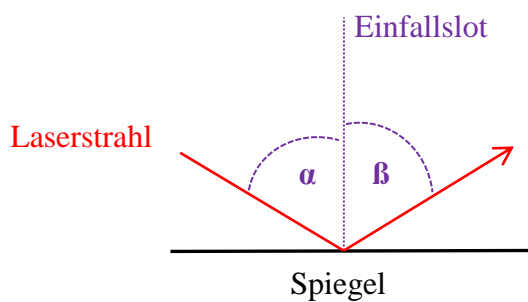


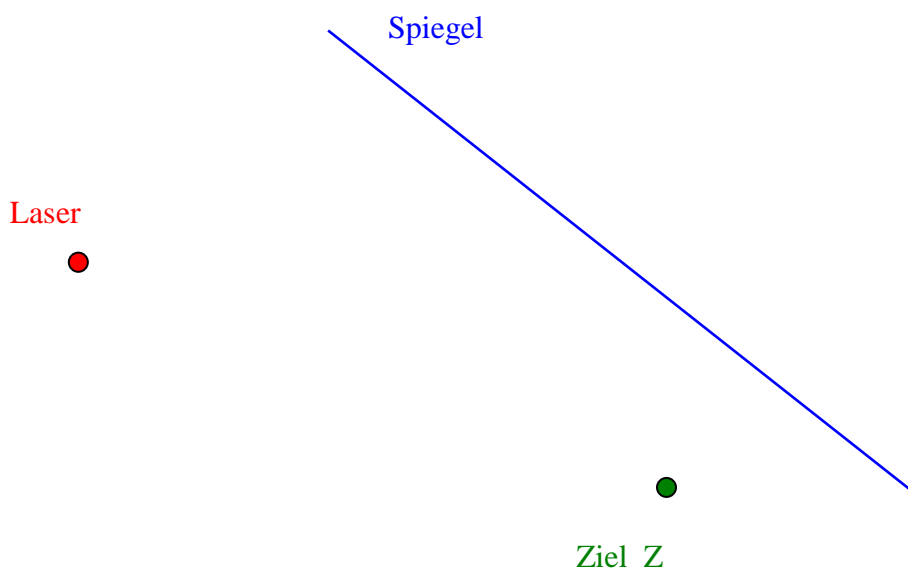
Physik * Jahrgangsstufe 7 * Das Reflexionsgesetz

Das Reflexionsgesetz besagt: Einfallswinkel α = Ausfallswinkel β

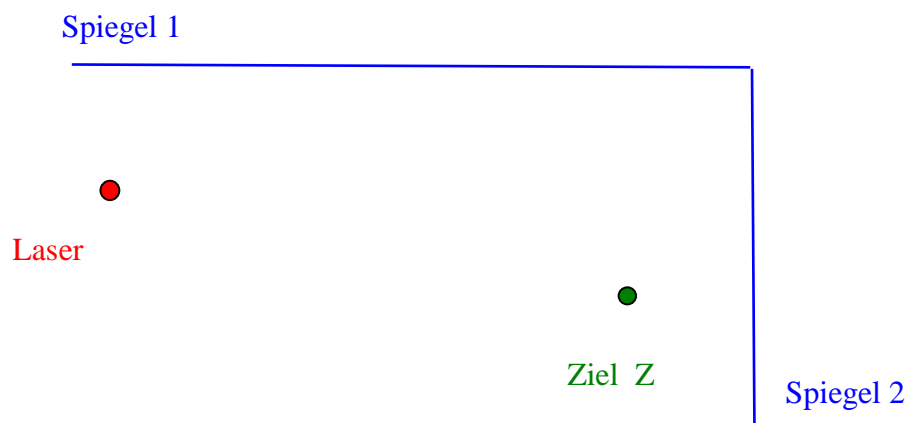


Zusätzlich gilt:
Einfallender und reflektierter Strahl sowie
das Einfallslot liegen in einer Ebene.

Kannst du mit dem Laserstrahl das Ziel Z über den Spiegel treffen.



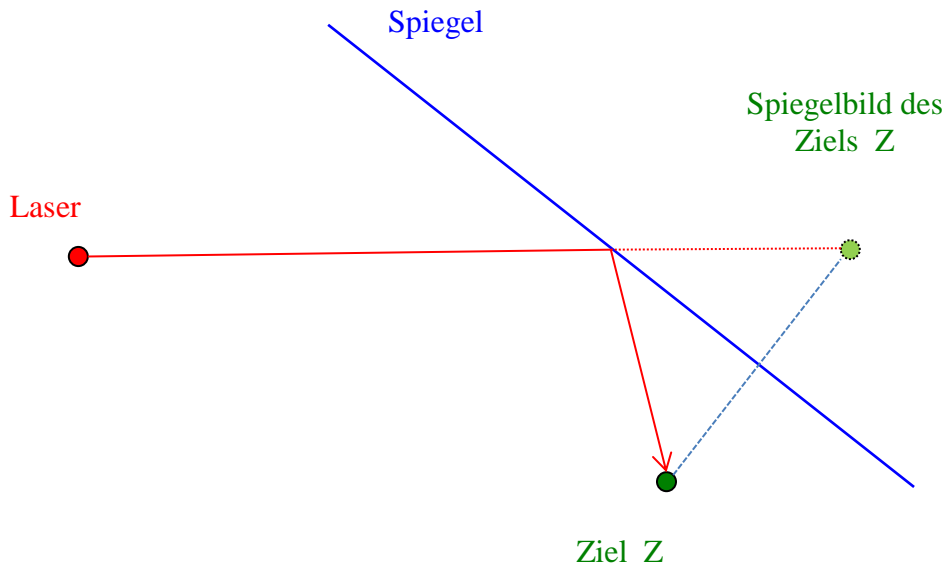
Kannst du mit dem Laserstrahl das Ziel Z über die beiden Spiegel treffen.



Physik * Jahrgangsstufe 7 * Das Reflexionsgesetz

Lösungen

Kannst du mit dem Laserstrahl das Ziel Z über den Spiegel treffen.



Kannst du mit dem Laserstrahl das Ziel Z über die beiden Spiegel treffen.

